

Thứ ngày tháng năm 2023

Học sinh:.....

ÔN TẬP CUỐI HỌC KÌ II (SỐ 1)

Năm học 2022 – 2023

Lớp: 2...

MÔN TOÁN (Thời gian: 40 phút)

PHẦN I. TRẮC NGHIỆM (4 điểm)

Khoanh vào chữ trước đáp án đúng hoặc làm theo yêu cầu:

Câu 1 (0,5đ) Số gồm 6 trăm, 9 đơn vị viết là:

- A. 6009 B. 69 C. 690 D. 609

Câu 2 (0,5đ) Trong phép tính $30 : 5 = 6$, số 5 được gọi là :

- A. Số hạng B. Số bị chia C. Số chia D. Thương

Câu 3 (0,5đ) Tổng của 163 và 27 là:

- A. 180 B. 190 C. 189 D. 390

Câu 4 (0,5đ) Số? $45 \text{ m} : 5 = \dots\dots\text{m}$

- A. 8 m B. 8 C. 9m D. 9

Câu 5 (0,5đ) $46 + 54 \dots 56 + 44$. Dấu cần điền vào chỗ chấm là:

- A. < B. > C. = D. Không có dấu nào

Câu 6 (0,5đ) Đồng hồ chỉ:

- A. 3 giờ 10 phút
B. 9 giờ 15 phút
C. 10 giờ 15 phút
D. 3 giờ 30 phút



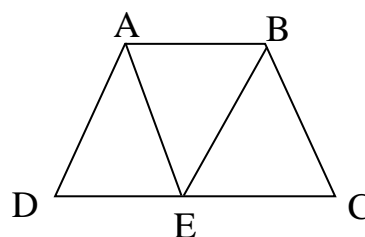
Câu 7 (0,5đ). Trong hội đua thuyền có 8 đội thi. Mỗi đội có 5 vận động viên. Hỏi có tất cả bao nhiêu vận động viên tham gia đi đấu?

Phép tính thích hợp để giải bài toán là:

- A. $8 \times 5 = 40$ (vận động viên) B. $5 \times 8 = 40$ (vận động viên)
C. $5 + 8 = 13$ (vận động viên) D. $8 - 5 = 3$ (vận động viên)

Câu 8 (0,5đ). Viết tên các hình tứ giác có trong hình bên

.....



PHẦN II. TỰ LUẬN (6điểm)


Câu 9 (2đ). Đặt tính rồi tính:

$28 + 244$

$380 + 196$

$556 - 39$

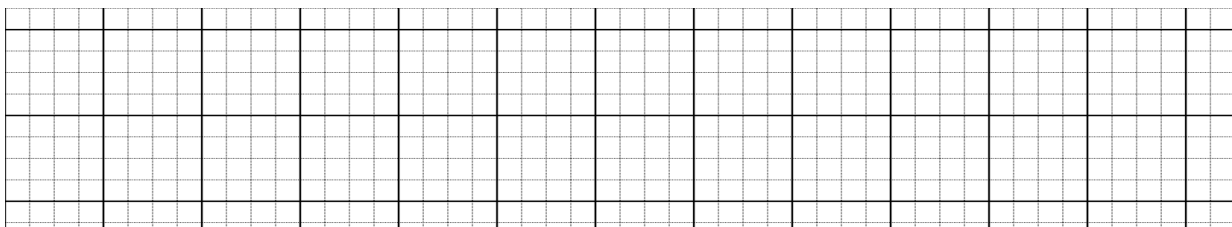
$459 - 147$



Câu 10 (1đ). Tính


$145 + 237 - 35$

$35\text{m} : 5 + 26\text{m}$

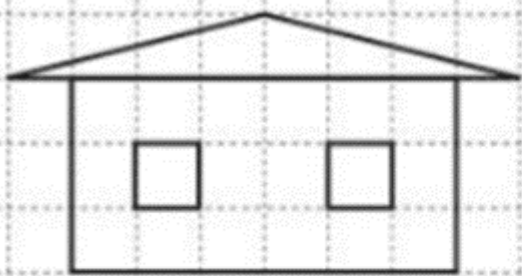


Câu 11 (2đ). Để ủng hộ các bạn vùng bị lũ lụt, trường Thành Công quyên góp được 325 bộ quần áo. Trường Hoàng Diệu quyên góp được nhiều hơn trường Thành Công 28 bộ quần áo. Hỏi trường Hoàng Diệu quyên góp được bao nhiêu bộ quần áo?

Bài giải



Câu 12 (1đ) Vẽ hình theo mẫu:



Mẫu

Thứ ngày tháng năm 2023

Họ và tên:

Lớp :

ĐỀ ÔN TẬP CUỐI HỌC KỲ II (SỐ 2)

MÔN: TOÁN - LỚP 2

Năm học 2022– 2023

PHẦN I. Trắc nghiệm (4 điểm) Khoanh vào chữ cái đặt trước câu trả lời đúng

Câu 1. (0,25 điểm) Số 181 đọc là:

- A. Một trăm tám một B. Một trăm mười tám
C. Một trăm tám mươi . D. Một trăm tám mươi mốt.

Câu 2. (0,25 điểm) Số liền trước của số 210 là :

- A. 211 B. 209 C. 212 D. 200

Câu 3. (0,5 điểm) Tháng 9 năm nay có 4 ngày chủ nhật là ngày 3, 10,.....,

Số thích hợp điền vào chỗ chấm là:

- A. 11, 18 B. 19, 18 C. 17, 24 D. 17, 30

Câu 4. (0,5 điểm) Kết quả đúng cho phép tính: $230 + 461 - 471 = \dots$

- A. 220 B. 690 C. 691 D. 210

Câu 5. (0,5 điểm) Độ dài cái bút mực của em khoảng:

- A. 15 m B. 15 dm C. 15 cm D. 15 km

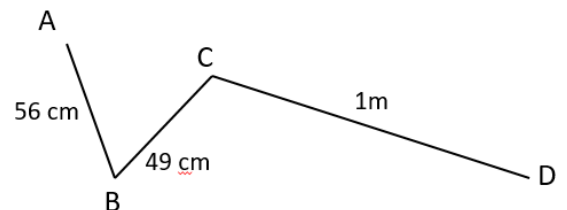
Câu 6. (0,5 điểm) Điền dấu thích hợp vào chỗ trống:

$$2 \text{ m} \times 9 \dots 119 \text{ dm} + 61 \text{ dm}$$

- A. > B. < C. = D. Không có dấu nào

Câu 7. (0,5 điểm) Độ dài đường gấp khúc ABCD là:

- A. 106 cm
B. 105 cm
C. 205 cm
D. 205 m



Câu 8. (0,5 điểm) Đúng ghi Đ. Sai ghi S.

a. Mét là đơn vị đo độ dài.

b. Ki – lô – mét được viết tắt là kg.

Câu 9. (0,5đ) Viết đơn vị đo độ dài thích hợp vào chỗ chấm.

- a) Chiều dài hộp bút màu khoảng 2
- b) Hộp bút màu dày khoảng 2

Thứ ngày tháng năm 2023

ĐỀ ÔN TẬP CUỐI HỌC KỲ II (SỐ 3)

MÔN: TOÁN - LỚP 2

Năm học 2022– 2023

Họ và tên:

Lớp :

PHẦN I. Trắc nghiệm (3 điểm) Khoanh vào chữ cái đặt trước câu trả lời đúng

Câu 1.

a. (0,25 điểm) Số gồm 9 chục, 4 trăm, 2 đơn vị là:


- A. 942 B. 492 C. 429 D. 294

b. (0,25 điểm) Giá trị của số 4 trong số 546 là:

- A. 4 B. 400 C. 546 D. 40

Câu 2. (0,5 điểm) Đồng hồ bên chỉ:

- A. 11 giờ 15 phút B. 11 giờ 3 phút
C. 12 giờ 15 phút D. 10 giờ 15 phút



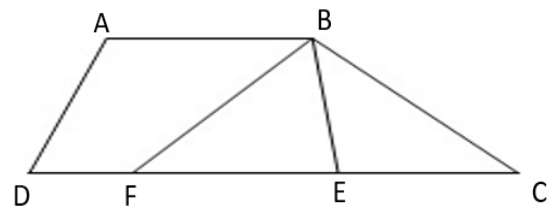
Câu 3. (0,5 điểm) Số thích hợp điền vào chỗ chấm là: $1\text{ m} = \dots\text{ cm}$

- A. 10 B. 100 C. 1 D. 1000

Câu 4. (0,5 điểm) Hình bên có mấy hình tam giác?

- A. 2 C. 4
B. 3 D. 5

Nêu tên các hình:



Câu 5. (0,5 điểm) Hình thích hợp điền vào dấu ? là:



- A.  B.  C.  D. 

Câu 6. (0.5 điểm) Đúng ghi Đ. Sai ghi S.

- a. Hôm qua là ngày 16 tháng 5, vậy ngày mai là ngày 17 tháng 5.
- b. Tổng của 459 và số liền sau số tròn trăm nhỏ nhất có ba chữ số là 560

PHẦN II. Tự luận (7 điểm)

Bài 1. Đặt tính rồi tính (2 điểm)

41 - 28	57 + 19	752 - 428	37 + 181
.....
.....
.....

Họ và tên: Thứ ngày tháng.... năm 2023
Lớp:

ÔN TẬP CUỐI HỌC KÌ II (SỐ 4)

Năm học 2022 – 2023

MÔN TOÁN (Thời gian: 40 phút)

PHẦN I. TRẮC NGHIỆM (4 điểm)

Khoanh vào chữ trước đáp án đúng hoặc làm theo yêu cầu:

Câu 1 (0,5đ). Số liền trước số 120 là:

- A. 121 B. 130 C. 119 D. 100

Câu 2 (0,5đ). Trong phép tính $25 : 5 = 5$, số 25 được gọi là :

- A. Số hạng B. Số bị chia C. Số chia D. Thương

Câu 3 (0,5đ). Hiệu của 521 và 9 là:

- A. 512 B. 530 C. 502 D. 522

Câu 4 (0,5đ). Cắt đoạn dây dài 2m thành 5 đoạn bằng nhau. Mỗi đoạn dài:

- A. 2 m B. 4 cm C. 20 cm D. 4 dm

Câu 5 (0,5đ) $46 \text{ cm} + 784 \text{ cm} \dots 89\text{dm} - 12\text{dm}$. Dấu cần điền vào chỗ chấm là:

- A. < B. > C. = D. Không có dấu nào

Câu 6 (0,5đ)



Đồng hồ đang chỉ giờ phút

Câu 7 (0,5đ) Đúng ghi Đ, sai ghi S vào chỗ chấm

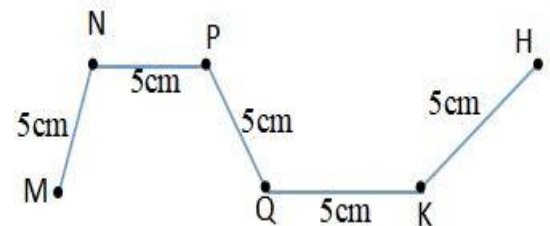
Bảng khoảng cách từ Hà Nội đến các tỉnh

Tên tỉnh	Hà Nam	Bắc Ninh	Thái Nguyên	Ninh Bình	Tuyên Quang
Khoảng cách	60km	35km	80km	95km	160km

- Trong 5 tỉnh, Hà Nội xa Thái Nguyên nhất
- Hà Nội gần Bắc Ninh hơn Hà Nam

Câu 8 (0,5đ) Độ dài đường gấp khúc MNPQKH là:

..... × =



Tên các đoạn thẳng của đường gấp khúc MNPQKH là:

.....

Họ và tên:

Lớp:

Thứ ngày.....tháng..... năm 2023

ÔN TẬP CUỐI HỌC KÌ II (SỐ 5)

Năm học 2022 – 2023

MÔN TOÁN (Thời gian: 40 phút)

PHẦN I. TRẮC NGHIỆM (5 điểm)

Khoanh vào chữ trước đáp án đúng hoặc làm theo yêu cầu:

Câu 1 (0,5đ). Số gồm 3chục, 5 đơn vị, 1 trăm là

- A. 351 B. 531 C. 135 D. 153

Câu 2 (0,5đ). Giá trị của số 6 trong số 652 :

- A. 6 B. 60 C. 600 D. 16

Câu 3 (0,5đ). Tìm tích của 8 và 5

- A. 13 B. 40 C. 8 D. 3

Câu 4 (0,5đ) 100 cm = dm. Số cần điền vào chỗ chấm là:

- A. 1 B. 10 C. 1000 D. 100

Câu 5 (0,5đ) Đồng hồ chỉ:

- A. 6 giờ 6 phút
B. 7 giờ 6 phút
C. 6 giờ 30 phút
D. 7 giờ 30 phút



Câu 6 (0,5đ) Vẽ đoạn thẳng AB dài 1 dm. Trên đoạn thẳng AB vẽ thêm điểm C.

.....

Câu 7: (1 đ) Đúng ghi Đ, sai ghi S

- Thứ Ba tuần này là ngày 17 tháng 4. Vậy thứ Hai tuần trước là ngày 9 tháng 4
- Số liền trước của số tròn chục lớn nhất có ba chữ số là: 990
- Tổng của số tròn chục bé nhất có ba chữ số và 6 là 996
- 15 giờ hay còn gọi là 3 giờ chiều

Câu 8: (1đ) Vẽ theo mẫu:

